

令和5年度 岡山県立井原高等学校特別入学者選抜選択実施する検査（実技）

【地域生活科ヒューマンライフコース】

検査 $\boxed{1}$ 封筒に入っているもの（布，ボタン，スナップ凸型，手縫い糸，まち針，糸切りばさみ）を用いて，次の①～③の指示に従って縫いなさい。

- ① 布の三つ折り部分に0.8cm程度の間隔で，布の端から端まで，まつり縫いをしなさい。糸は1本どりで，玉結びをして始め，玉止めをして終わちなさい。ただし，布には何も書かないこと。
- ② 布の×印の位置にボタンつけをしなさい。糸は1本どりで，玉結びをして始め，玉止めをして終わちなさい。
- ③ 布の○印の位置にスナップつけをしなさい。糸は1本どりで，玉結びをして始め，玉止めをして終わちなさい。

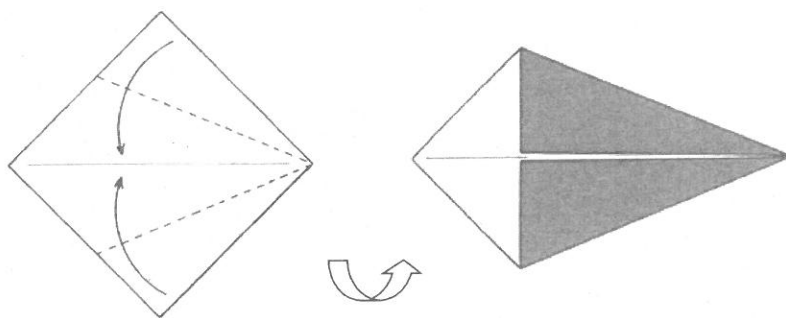
検査② 封筒に入っているもの（折り紙、色用紙、のり、はさみ、色鉛筆）を用いて、次の①～④の指示に従い、「水辺の一場面」を作りなさい。ただし、園児を対象にしたものとする。

下図の折り線には、谷折り線（-----）と、山折り線（- - - - -）の2種類があります。

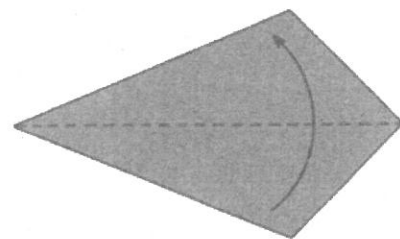
① 黄色の折り紙を使い、図1に従い、「みずどり」を一つ作りなさい。

図1

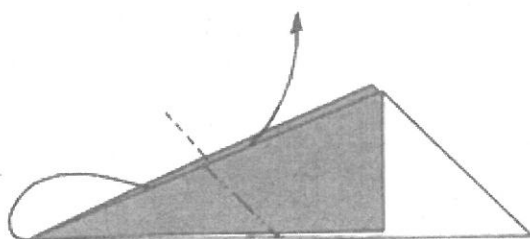
(1) 三角に折りすじをつけて、折りすじに合わせるように折る



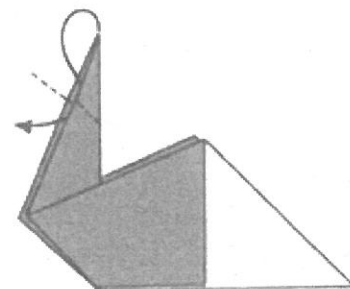
(2) 折れたものを裏返し、半分に折る



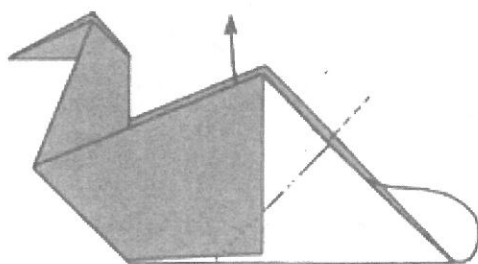
(3) 図のように、なかわり折りをする



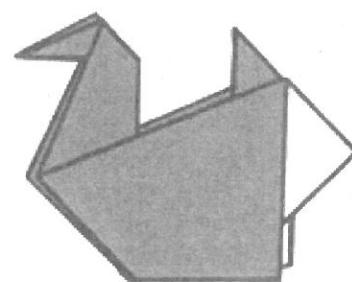
(4) 図のように、なかわり折りをする



(5) 図のように、なかわり折りをする



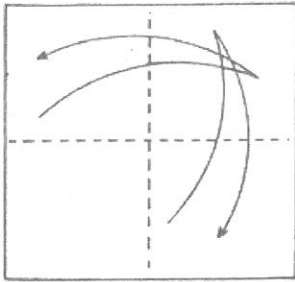
(6) できあがり



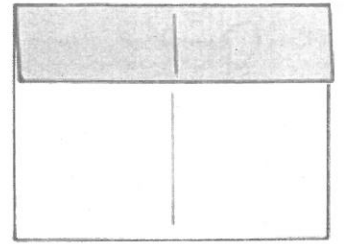
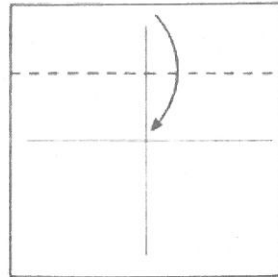
② 青色の折り紙を使い，図2に従い，「家」を一つ作りなさい。

図2


(1) 四角に折りすじをつける



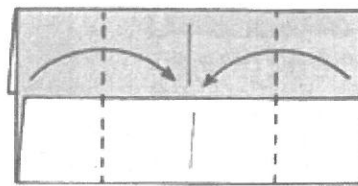
(2) 折りすじに合わせて折り下げる




(3) 裏返し，折りすじに合わせて折り上げる



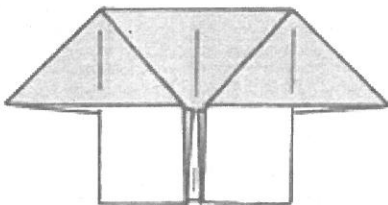
(4) 折りすじに合わせて折る



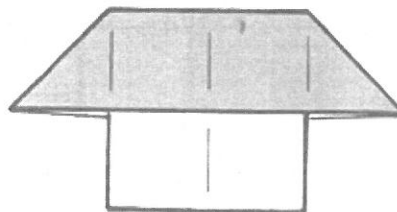
(5) かどをつまむようにして内側を広げて，つぶす



(6) 折れたものを裏返す



(7) できあがり



出典：「日本のおりがみ百科」

③ 色用紙に描かれている「木」二つをはさみを使って切りなさい。

④ 次の指示に従って，「水辺の一場面」を解答用紙の太枠内に完成させなさい。

[作成の条件]

- ・ 解答用紙の向きは横向きとする。
- ・ 二つの折り紙作品と二つの切り抜いた「木」を解答用紙にのりで貼り付ける。
- ・ 色鉛筆を使って絵を描き加える。なお，折り紙作品と切り抜いた「木」にも描き加えてよい。

[貼り付けの注意点]

- ・ できあがりを表面にし，裏面に筆記用具で受検番号を記入する。
- ・ 裏面にのりを付け，はがれないように貼り付ける。ただし，作品どうしが重ならないようにすること。